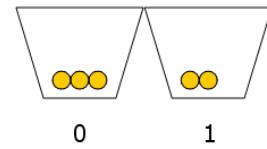
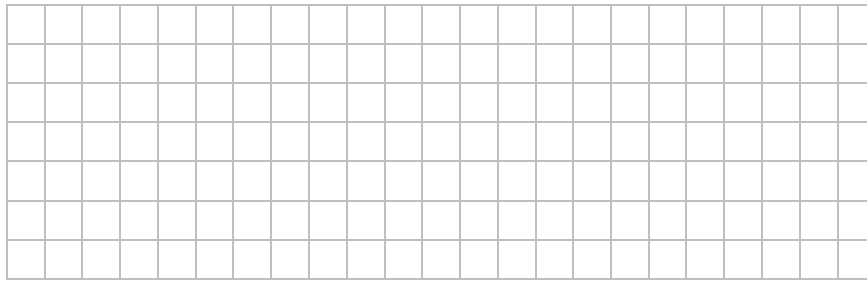


Der einfache Murmelrechner (1/12.3.2.1)


Murmeln und Becher

Beschreibe, welche Computerbestandteile die Becher darstellen. Was sagen die Murmeln aus?




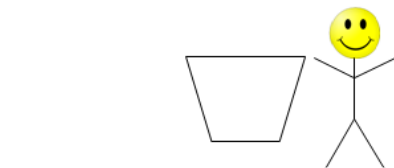
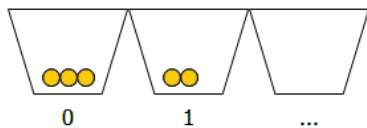
Befehle des Murmel-Rechners

Nenne alle Befehle des Murmel-Rechners und erkläre kurz, was sie bewirken.



Rollenverteilung

Beschrifte die drei Rollen und erkläre kurz ihre Funktion.



```

0 tst 1
1 jmp 3
2 jmp 6
3 dec 1
4 inc 0
5 jmp 0
6 hlt
    
```

